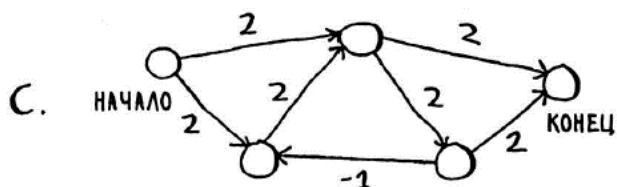
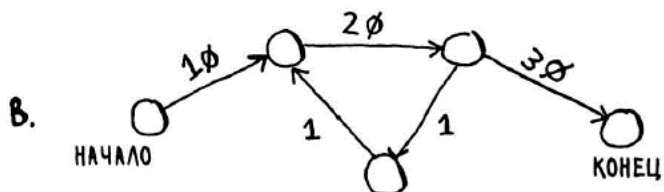
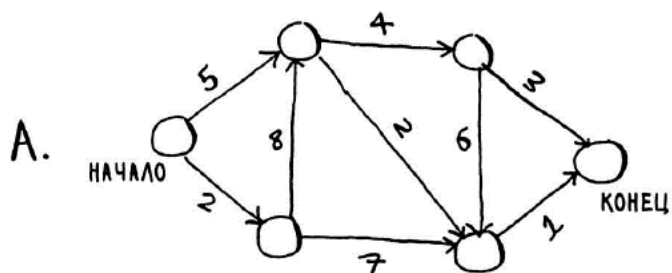


1. Яка вага найкоротшого шляху від початку до кінця в кожному з наступних графів?



2. Знайдіть довжину найкоротшого маршруту від точки А до точки Б.

